



۱۳۷۰

باسمه تعالی

موسسه‌ی فرهنگی آموزشی پیوند ادب  
پیش دبستان و دبستان (هوشمند) دخترانه پیوند

سوالات گذر از تابستان

نام و نام خانوادگی :

کلاس : ورودی اول به دوم



۱- کلمه‌ی درست را در جای خالی بنویس .

الف ( بنا ..... درست می کند . ( شیرینی - خانه - میز )

ب ( ما به کلاس ..... می رویم . ( اول - دوم - سوم )

۲- عبارت زیر را به طور مناسب ادامه دهید .

روزی با دوچرخه .....

.....

۳ - با کلمات زیر ، جمله بساز .

صدف : .....

تابستان : .....

احساس : .....



۴ - کلمات در هم ریخته ، را مرتب کن .

الف ) نماز - می خواند - دعا - مادرم - بعد از

.....

ب ) روزها - ابری - بعضی - است - آسمان

.....

۵ - حروف در هم ریخته ی زیر را مرتب کن .



ض - ر - ا - ر - ا - ر



ط - ق - ا - ر - ا - ر - ا - ر



۶- جمله های زیر را کامل کن .

الف ) ما بعد از درس ، وسایل خود را .....

ب ) انسان های خوب .....

۷- برای هر نشانه یک کلمه بنویس .

..... ک

..... ج

..... چ



۱۳۷۰

باسمه تعالی

موسسه‌ی فرهنگی آموزشی پیوند ادب  
پیش دبستان و دبستان (هوشمند) دخترانه پیوند

سوالات گذر از تابستان

نام و نام خانوادگی :  
کلاس : ورودی اول به دوم

۸- برای هر تصویر یک جمله بساز .



.....



.....

۹- دو تا دو تا به هم وصل کن و بنویس .

آب \* رسته \*

دود \* تمیز \*

آش \* آتش \*

۱۰- بخش ها و صداها را بنویس .

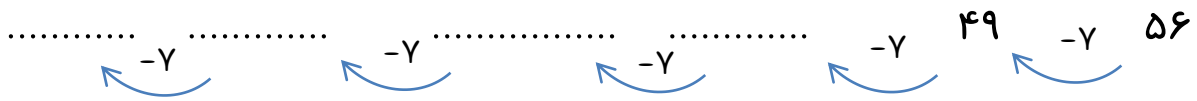
|       |  |  |  |  |
|-------|--|--|--|--|
| انسان |  |  |  |  |
|       |  |  |  |  |
|       |  |  |  |  |

|       |  |  |  |  |
|-------|--|--|--|--|
| شیرین |  |  |  |  |
|       |  |  |  |  |
|       |  |  |  |  |




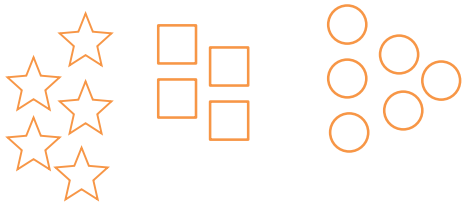


۱- در جاهای خالی عدد مناسب بنویس .



۲- ستاره ۸ دفتر و هستی ۶ دفتر دارند . ستاره ۳ تا از دفترهایش را به هستی داد . حالا هر کدام چند دفتر دارند ؟

۳- شکل های زیر را رنگ کرده و جمع بینید .



..... + ..... + ..... = .....

..... + ..... + ..... = .....

۴- اعداد زیر را از کوچک به بزرگ مرتب کنید و بنویسید .

\* ۱۰ - ۹۰ - ۷۰ - ۳۰ - ۵۰ - ۸۰ - ۲۰ - ۴۰ - ۶۰

.....



۱۳۷۰

باسمه تعالی

موسسه‌ی فرهنگی آموزشی پیوند ادب  
پیش دبستان و دبستان (هوشمند) دخترانه پیوند

سوالات گذر از تابستان

نام و نام خانوادگی :  
کلاس : ورودی اول به دوم

۵ - از عدد ۳۶ تا ۴۸ بنویس .

۶ - هر جمع را به شکل مربوط به خودش وصل کنید و جواب را در جای خالی بنویسید .

$۴ + ۹ =$



$۹ + ۳ =$



$۷ + ۶ =$



۷ - ۲۷ شاخه گل در گل فروشی بود . فروشنده ۷ گل فروخت . ۵ گل هم به مادرش داد . حالا چند

گل در گل فروشی باقی مانده است ؟ ( با رسم چوب خط حل کن )

۸ - جواب جمع های زیر را بنویس .

$۲۰ + ۳۰ + ۵ + ۵ =$


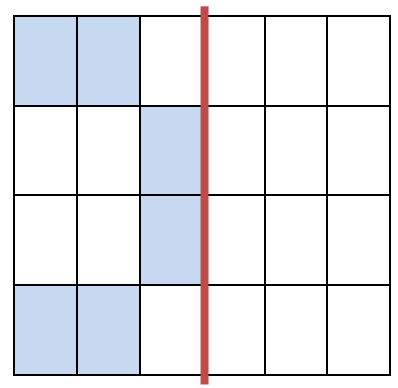
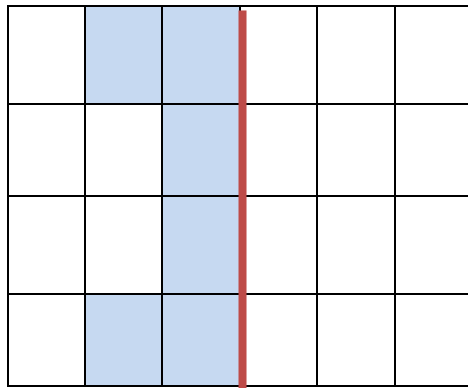
$۲۰ + ۲۰ + ۵ - ۱۰ =$



۹ - خانه های خالی را با عدد و حروف مناسب کامل کن .

|    |           |    |      |
|----|-----------|----|------|
| ۳۵ |           | ۵۹ |      |
|    | چهل و هشت |    | هفده |

۱۰ - ست راست شکل ها زیر را طوری رنگ کن تا دو نیمه شکل مثل هم باشند .



۱- کدام کارها باعث آلودگی هوا می شود ؟

.....

۲- وقتی چیزی را لمس می کنیم چه می فهمیم ؟

.....



۱۳۷۰

باسمه تعالی

موسسه‌ی فرهنگی آموزشی پیوند ادب  
پیش دبستان و دبستان (هوشمند) دخترانه پیوند  
سوالات گذر از تابستان

نام و نام خانوادگی :  
کلاس : ورودی اول به دوم

۳- بخوان و جمله های درست را با علامت ✓ و جمله های نادرست را با علامت × بزن .

الف ) قطب های ناهمنام یک دیگر را جذب می کنند .

ب ) قدرت آهن ربا در همه ی قسمت هایش یکسان است .

۴- چه کارهایی به چشم های ما آسیب می رساند ؟

.....

۵- چیزی نام ببرید که با بو کردن آن را می شناسیم ؟

.....

۶- ریشه گیاهان چه فرقی با هم دارند ؟

.....

۷- وسایل و چیزهایی نام ببرید که هم گرما ، هم نور داشته باشند ؟

.....

